

5009

9 класс Тестовый район
Количество баллов — 20

Задание 1.

Каждый вопрос оцениваем в 1 балл.

№ вопроса	Ответ	№ вопроса	Ответ
1.	х	11.	3
2.	х	12.	х
3.	х	13.	х
4.	х	14.	х
5.	х	15.	х
6.	х	16.	х
7.	х	17.	х
8.	х	18.	х
9.	х	19.	х
10.	х	20.	х

Задание 1. (6 баллов)

Анализический район 42 балла

Ответ: Рыбный и морской, байшоны и вывешено и
древесная шорон джелема ель 31 килом заветий от
белес-Замародия и дивид, деадривше 5)

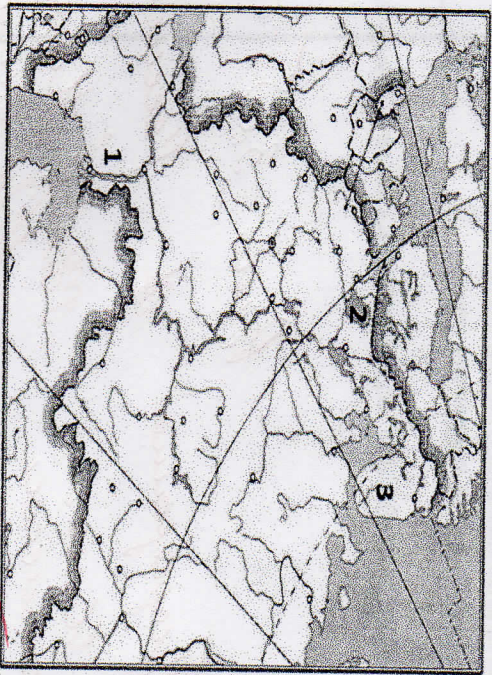
Задание 2 (10 баллов)

№	Вопрос	Ответ
1	О каком субъекте РФ идёт речь?	
2	Как называется субъект, представители которого, проживают на данной территории? Как называются парусные суда мореплавателей данного субъекта?	
4	Укажите название города — спутника административного центра данного субъекта РФ.	
5	Укажите фамилию знаменитого российского учёного, выходяща данной земли.	
6	Месторождение какого минерала названо в честь	

7	данного учёного?	
7	Как называется месторождение бокситов, разрабатываемое в данном субъекте РФ?	
8	О каком возобновимом природном ресурсе идёт речь в тексте?	
9	Как называется космодром, расположенный в этом субъекте РФ?	

Задание 3 (10 баллов)

1) Укажите названия географических объектов, обозначенных на фрагменте контурной карты цифрами.



- 1 Река _____
- 2 _____ озеро
- 3 _____ полуостров

2) На контурной карте обозначьте цифрами географические объекты в соответствии с их порядковыми номерами в списке.

Географические объекты: 4 — Балтийское море, 5 — Белое море, 6 — Баренцево море, 7 — Каспийское море, 8 — Литва, 9 — Финляндия, 10 — Казахстан

Задание 4. (16 баллов)

Определите, на банкнотах (денежных знаках) каких государств из приведённого ниже списка в разные периоды были использованы изображения, указанные в таблице. Внесите во вторую графу таблицы порядковые номера государств из списка. Государства: 1 — Китай, 2 —

адада, 3 – Новая Зеландия, 4 – Монголия, 5 – Австралийский Союз, 6 – Япония, 7 – Руанда, 8 – Узбекистан

Изображения	№ ответа
Ковры с национальным колоритом, архитектурные комплексы Бухары и Самарканда, цветок хлопчатника	8
Профиль королевы Елизаветы II, пингвин хойхо, птица киви	9
Сухэ-Батор, Чингисхан, стрельба из лука, лошади Пржевальского; юрта на повозке, запряжённой быками	4
Картины арктической природы, хоккей, королева Елизавета II, полирные гагары	2
Мао Цзэдун, панорама реки Хуанхэ в скалах, пейзаж Гималаев	1
Женщина банту на фоне вулканов Вирунга, кофейные зёрна	7
Гора Фудзи, цветение сакуры, журавли	6
Королева Елизавета II, ветка эвкалипта, созвездие Южный Крест, ветка акации, птица лирохвост, волы, перевозящие шерсть	5

МАКСИМАЛЬНО ВОЗМОЖНОЕ КОЛИЧЕСТВО БАЛЛОВ за работу: 62

Всего 3105

Пререшени
Чеша
кошешени

Решението е

Решението е О.И.
Решението е О.И.
Решението е О.И.
Решението е О.И.
Решението е О.И.
Решението е О.И.

14 сев 9

9 класс Тестовый район
Количество баллов — 20

Задание 1.

Каждый вопрос оцениваем в 1 балл.

№ вопроса	Ответ	№ вопроса	Ответ
1.	2	11.	1
2.	3	12.	2
3.	4	13.	1
4.	4	14.	1
5.	4	15.	2
6.	3	16.	3
7.	4	17.	3
8.	4	18.	1
9.	4	19.	2
10.	4	20.	1

Аналитический район 42 балла

Задание 1. (6 баллов)

Ответ: 5) Помощь тем, в Таджикистане ком шара, в мак-же ш-за Ошань афривудушань шара, 2) Сосна, дуб, 3) ш-за нормального вырва со шара, 4) Бешаруш, лимба.

Задание 2 (10 баллов)

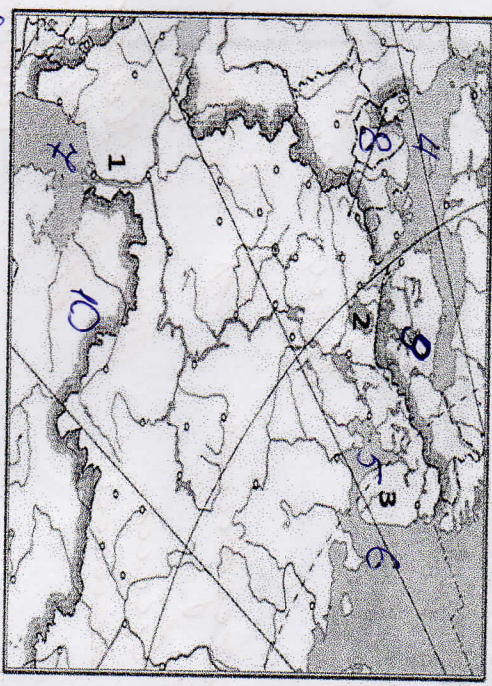
№	Вопрос	Ответ
1	О каком субъекте РФ идёт речь?	Тувинский край
2	Как называется субъект, представители которого, проживают на данной территории? Как называются парусные суда мореплавателей данного субъекта?	—
4	Укажите название города — спутника административного центра данного субъекта РФ.	Кабановск
5	Укажите фамилию знаменитого российского учёного, выходяща данной земли.	—
6	Месторождение какого минерала названо в честь	—

305

7	Как называется месторождение бокситов, разрабатываемое в данном субъекте РФ?	—
8	О каком возобновимом природном ресурсе идёт речь в тексте?	—
9	Как называется космодром, расположенный в этом субъекте РФ?	Байконур

Задание 3 (10 баллов)

1) Укажите названия географических объектов, обозначенных на фрагменте контурной карты цифрами



- 1 Река Волга
- 2 Онежское озеро
- 3 Финский полуостров

2) На контурной карте обозначьте цифрами географические объекты в соответствии с их порядковыми номерами в списке.

Географические объекты: 4 — Балтийское море, 5 — Белое море, 6 — Баренцево море, 7 — Каспийское море, 8 — Литва, 9 — Финляндия, 10 — Казахстан

Задание 4. (16 баллов)

Определите, на банкетках (денежных знаках) каких государств из приведённого ниже списка в разные периоды были использованы изображения, указанные в таблице. Внесите во вторую графу таблицы порядковые номера государств из списка. Государства: 1 — Китай, 2 —

14 сев 9

адада, 3 - Новая Зеландия, 4 - Монголия, 5 - Австралийский Союз, 6 - Япония, 7 - Руанда, 8 - Узбекистан

Изображения	№ ответа
Ковры с национальным колоритом, архитектурные комплексы Бухары и Самарканда, цветок хлопчатника	4 4
Профиль королевы Елизаветы II, пингвин хойко, птица киви	2 5
Сух-Батор, Чингисхан, стрельба из лука, лошади Пржевальского; юрта на повозке, запряжённой быками	4
Картины арктической природы, хоккей, королева Елизавета II, полирные гагары	2
Мао Цзэдун, панорама реки Хуанхэ в скалах, пейзаж Гималаев	1 8
Женщина банту на фоне вулканов Вирунга, кофейные зёрна	6 8
Гора Фудзи, цветение сакуры, журавли	6
Королева Елизавета II, ветка эвкалипта, созвездие Южный Крест, ветка акации, птица лирохвост, волк, перевозчице шерсть	3 4

МАКСИМАЛЬНО ВОЗМОЖНОЕ КОЛИЧЕСТВО БАЛЛОВ за работу: 62

Всего 305.

Принятые решения

Миссия

Миссия

Миссия

Миссия

62

9 класс Тестовый район
Количество баллов — 20

Задание 1.

Каждый вопрос оцениваем в 1 балл.

№ вопроса	Ответ	№ вопроса	Ответ
1.	а	11.	а
2.	а	12.	а
3.	а	13.	а
4.	а	14.	а
5.	а	15.	а
6.	а	16.	а
7.	а	17.	а
8.	а	18.	а
9.	а	19.	а
10.	а	20.	а

Задание 1. (6 баллов)
Аналитический район 42 балла

Ответ:

Задание 2 (10 баллов)

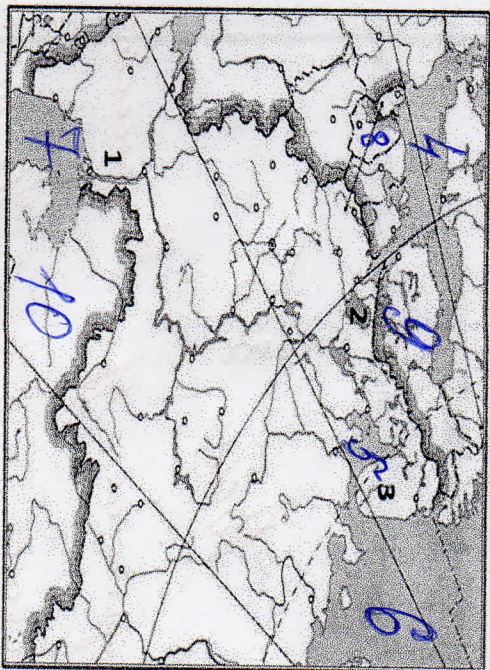
№	Вопрос	Ответ
1	О каком субъекте РФ идёт речь?	
2-	Как называется субъект, представители которого проживают на данной территории? Как называются парусные суда мореплавателей данного субъекта?	
4	Укажите название города — спутника административного центра данного субъекта РФ.	
5	Укажите фамилию знаменитого российского учёного, выходяща данной земли.	
6	Месторождение какого минерала названо в честь	

2009

7	Как называется месторождение бокситов, разрабатываемое в данном субъекте РФ?	
8	О каком возобновимом природном ресурсе идёт речь в тексте?	
9	Как называется космодром, расположенный в этом субъекте РФ?	

Задание 3 (10 баллов)

1) Укажите названия географических объектов, обозначенных на фрагменте контурной карты цифрами



- 1 Река Волга
2 Северное море озеро
3 Кавказский полуостров

2) На контурной карте обозначьте цифрами географические объекты в соответствии с их порядковыми номерами в списке.
Географические объекты: 4 – Балтийское море, 5 – Белое море, 6 – Баренцево море, 7-Каспийское море, 8 – Литва, 9 – Финляндия, 10 – Казахстан

Задание 4. (16 баллов)

Определите, на банках (денежных знаках) каких государств из приведённого ниже списка в разные периоды были использованы изображения, указанные в таблице. Внесите во вторую графу таблицы порядковые номера государств из списка. Государства: 1 – Китай, 2 –

адада, 3 – Новая Зеландия, 4 – Монголия, 5 – Австралийский Союз, 6 – Япония, 7 – Руанда, 8 – Узбекистан

2009

Изображения	№ ответа
Ковры с национальными конопитом, архитектурные комплексы Бухары и Самарканда, цветок хлопчатника	8
Профиль королевы Елизаветы II, пингвин хайко, птица киви	7
Сухэ-Батор, Чингисхан, стрельба из лука, лошади Пржевальского, юрта на повозке, запряжённой быками	2
Картины арктической природы, хоккей, королева Елизавета II, полярные гаттары	3
Мао Цзэдун, панорама реки Хуанхэ в скалах, пейзаж Гималаев	1
Женщина банту на фоне вулканов Вирунга, кофейные зёрна	4
Гора Фудзи, цветение сакуры, журавли	6
Королева Елизавета II, ветка эвкалипта, созвездие Южный Крест, ветка акации, птица лирохвост, волк, перевозящие шерсть	5

МАКСИМАЛЬНО ВОЗМОЖНОЕ КОЛИЧЕСТВО БАЛЛОВ за работу: 62

Всего 335

Ахмедовичев Д Решимов БС

Мисирев Рустам Мухоморов О.И.

Баймуратов С.А. Мисирев Д.А. Мирза

Алиев Кристианович Т.В.

9 класс Тестовый район
Количество баллов — 20

Задание 1.

Каждый вопрос оцениваем в 1 балл.

№ вопроса	Ответ	№ вопроса	Ответ
1.	1	11.	1
2.	2	12.	1
3.	2	13.	1
4.	4	14.	1
5.	3	15.	1
6.	4	16.	1
7.	2	17.	1
8.	2	18.	1
9.	4	19.	1
10.	2	20.	1

Аналитический район 42 балла

Задание 1. (6 баллов)

Ответ: _____

Задание 2 (10 баллов)

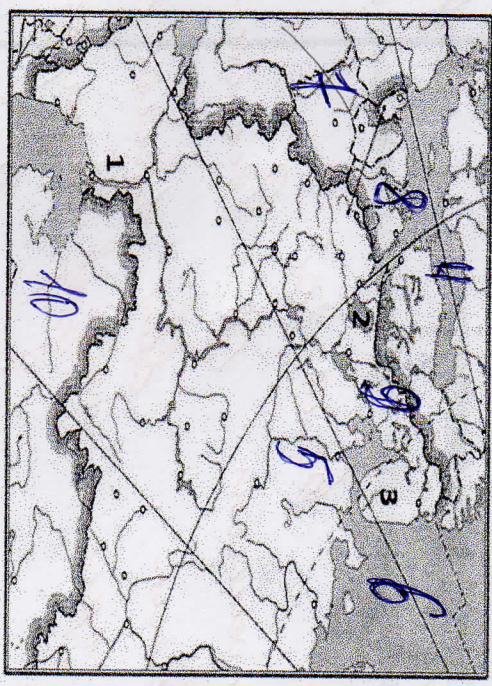
№	Вопрос	Ответ
1	О каком субъекте РФ идёт речь?	
2	Как называется субъект, представители которого проживают на данной территории? Как называются органы суда мореплавателей данного субъекта?	
4	Укажите название города административного центра данного субъекта РФ.	
5	Укажите фамилию знаменитого учёного, выходящего из данной земли.	
6	Месторождение какого минерала названо в честь _____	

3.000

7	Как называется месторождение бокситов, разрабатываемое в данном субъекте РФ?	
8	О каком возобновимом природном ресурсе идёт речь в тексте?	
9	Как называется космодром, расположенный в этом субъекте РФ?	

Задание 3 (10 баллов)

1) Укажите названия географических объектов, обозначенных на фрагменте контурной карты цифрами.



1. Река Волга
2. Ладожское озеро
3. Калининград полуостров

2) На контурной карте обозначьте цифрами географические объекты в соответствии с их порядковыми номерами в списке.

Географические объекты: 4 – Балтийское море, 5 – Белое море, 6 – Баренцево море, 7 – Каспийское море, 8 – Литва, 9 – Финляндия, 10 – Казахстан

Задание 4. (16 баллов)

Определите, на банках (денежных знаках) каких государств из приведённого ниже списка в разные периоды были использованы изображения, указанные в таблице. Внесите во вторую графу таблицы порядковые номера государств из списка. Государства: 1 – Китай, 2 –

днда, 3 – Новая Зеландия, 4 – Монголия, 5 – Австралийский Союз, 6 – Япония, 7 – Руанда,
8 – Узбекистан

Изображения	№ ответа
Ковры с национальным колоритом, архитектурные комплексы Бухары и Самарканда, цветок хлопчатника	8 <i>AB</i>
Профиль королевы Елизаветы II, пингвин хойхо, птица киви	7 <i>AB</i>
Сухэ-Батор, Чингисхан, стрельба из лука, лошади Пржевальского; корта на повозке, запряжённой быками	2
Картинки арктической природы, хоккей, королева Елизавета II, подярные галары	3
Мао Цзэдун, панорама реки Хуанхэ в скалах, пейзаж Гималаев	1 <i>AB</i>
Женщина банту на фоне вулканов Вирунга, кофейные зёрна	4 <i>AB</i>
Гора Фудзи, цветение сакуры, журавли	6 <i>AB</i>
Королева Елизавета II, ветка эвкалипта, созвездие Южный Крест, ветка акации, птица лирохвост, волы, перевозящие шерсть	5 <i>AB</i>

МАКСИМАЛЬНО ВОЗМОЖНОЕ КОЛИЧЕСТВО БАЛЛОВ за работу: 62

Всего 3005

Презервешеш *AB* *Величье EA*

Меш *AB* *Улице EX*

шорс *AB* *Улице OY*

AB *Улице OX* *шор*

AB *Улице T.B*

На задании 1 (тестовый раунд) отводится 30 минут, затем листы с ответами собираются.

На задания 2–6 (аналитический раунд) отводится 45 минут. Желаем успеха!

Тестовый раунд

Количество баллов — 20

- Задание 1. Задание включает 20 вопросов, к каждому из которых предложено несколько вариантов ответов. На каждый вопрос выберите один ответ, который вы считаете наиболее полным и правильным. Обведите в кружок букву выбранного ответа
- 1.1. Как называется наука о небесных телах?
 а) история б) география в) экология г) астрономия
- 1.2. Что такое глобус?
 а) модель Солнца б) модель Земли в) модель шара
- 1.3. Кто открыл Америку?
 а) Фернан Магеллан б) Христофор Колумб в) Михаил Лазарев.
- 1.4. Что на плане местности обозначают зелёным цветом?
 а) низкие участки суши б) населённые пункты в) растительность г) высокие участки суши.
- 1.5. Какое море омывает берега России?
 а) Белое б) Жёлтое в) Северное г) Красное
- 1.6. Что в переводе с греческого языка означает слово «география»?
 а) «землеписание» б) «изучение Земли»
 в) «изучение природы» г) «описание природы»
- 1.7. В какую из стран ты сможешь поехать, если поедешь на юг Европы?
 а) в Грецию б) в Финляндию в) в Швейцарию г) в Великобританию
- 1.8. Какие горы находятся не в России?
 а) Кавказ б) Урал в) Алтай г) Альпы
- 1.9. В какой стране находится город Оденсе, в котором открыт дом-музей Г.Х. Андерсена?
 а) Швеция б) Норвегия в) Дания г) Германия
- 1.10. С какой страной Россия граничит?
 а) Германия б) Монголия в) Узбекистан г) Армения
- 1.11. Что изучают сейсмологи?
 а) ураны б) землетрясения в) ледники г) озёра
- 1.12. Какой объект Всемирного наследия находится не на территории России?
 а) вулканы Камчатки б) потоп Кизки в) озеро Байкал г) мавзолей Тадж-Махал
- 1.13. Какой газ занимает наибольший объём в составе воздуха?
 а) кислород б) углекислый газ в) азот г) водород
- 1.14. В какой стране находится резиденция Санта-Клауса?
 а) Исландия б) Финляндия в) Швеция г) Норвегия
- 1.15. Выберите промежуточную сторону горизонта:

а) север б) северо-восток в) восток г) юг

1.16. Кто впервые измерил и наиболее точно вычислил размеры Земли:
 а) Пифагор б) Птолемей в) Эратосфен г) Бехайм

1.17. Какой материк пересекают все меридианы Земли?
 а) Африка б) Евразия в) Антарктида г) Австралия.

1.18. Прибор, изобретённый китайцами, способствующий развитию мореплаванию:
 А) гномон б) компас в) солнечные часы г) штурвал

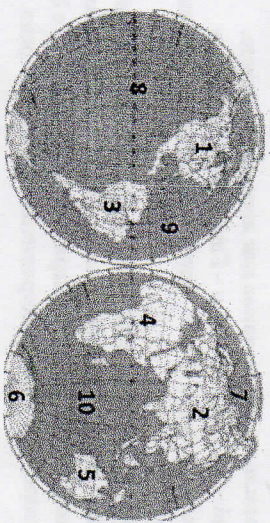
1.19. Морской путь в Индию был открыт экспедицией:
 а) Марко Поло б) Х. Колумба в) Ф. Магеллана г) Васко да Гама

1.20. Калининградская область граничит с:
 а) Литвой б) Латвией в) Германией г) Белоруссией.

Аналитический раунд 30 баллов

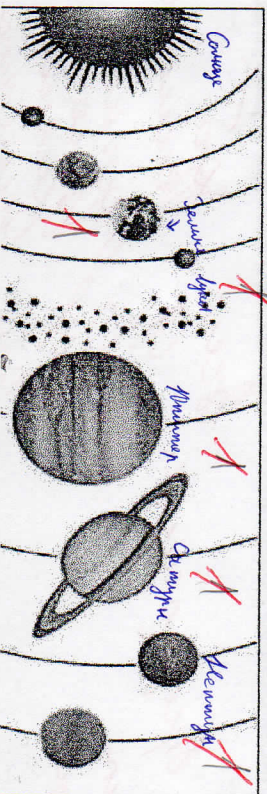
Задание 2 (12 баллов).

Ответьте на вопросы. В качестве ответов укажите номера материков и океанов, указанные на карте.



- 1) Какой океан самый глубокий? 10
- 2) Какой материк был открыт позже других материков? 4
- 3) На каком материке расположена Индия? 4
- 4) Какие океаны омывают берега России? 10, 7, 8, 9
- 5) Большая часть какого океана расположена в Южном полушарии? 8, 10
- 6) На каком материке расположена Бразилия? 3
- 7) Какой океан самый холодный? 8
- 8) Возле берегов какого материка находится остров Мадагаскар? 3
- 9) Какой материк самый жаркий? 3
- 10) На каком материке расположено государство США? 1

Задание 3 (8 баллов)
 Подпишите на схематическом рисунке названия планет Солнечной системы.



Тестовый район

5 mi

500 L

Количество баллов — 20

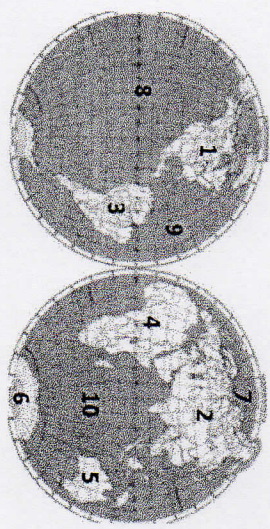
Задание 1.

Каждый вопрос оцениваем в 1 балл.

№ вопроса	Ответ	№ вопроса	Ответ
1.1.	2	1.11.	2
1.2.	2	1.12.	2
1.3.	2	1.13.	2
1.4.	2	1.14.	2
1.5.	2	1.15.	2
1.6.	2	1.16.	2
1.7.	2	1.17.	2
1.8.	2	1.18.	2
1.9.	2	1.19.	2
1.10.	2	1.20.	2

Задание 2 (12 баллов).


Аналитический район 30 баллов



№ вопроса	Вопрос	Ответ (номер с картосхемы)
1.	Какой океан самый глубокий?	10
2.	Какой материк был открыт позже других материков?	6
3.	На каком материке расположена Индия?	5
4.	Какие океаны омывают берега России?	8, 9, 10
5.	Большая часть какого океана расположена в Южном полушарии?	4
6.	На каком материке расположена Бразилия?	2
7.	Какой океан самый холодный?	9
8.	Возле берегов какого материка находится остров Мадагаскар?	3
9.	Какой материк самый жаркий?	4
10.	На каком материке расположено государство США?	1

Задание 3 (8 баллов)

Подпишите на схематическом рисунке названия планет Солнечной системы.



Задание 4 (5 баллов)

Ответ: 1, 5, 5, 5

Задание 5 (5 баллов)

Ответ: 1, 5, 5, 5

Задание 6 (5 баллов)

Ответ: _____

Задание 7 (5 баллов)

Ответ: _____

МАКСИМАЛЬНО ВОЗМОЖНОЕ КОЛИЧЕСТВО БАЛЛОВ за работу: 60

Преподаватель Ветеринария Решитель Ев

Иванов Иван Иванович
 Иванова Мария Ивановна
 Иванова Анна Ивановна
 Иванова Ольга Ивановна
 Иванова Татьяна Ивановна

6 гео 4

Тестовый раунд 6 класса
Количество баллов — 20

Задание 1. Каждый вопрос оцениваем в 1 балл.

№ вопроса	Ответ	№ вопроса	Ответ
1.	Тихий	11.	б 1
2.	Тихий	12.	2 1
3.	Тихий	13.	б 1
4.	Тихий	14.	б 1
5.	Тихий	15.	а 1
6.	Тихий	16.	б 1
7.	Тихий	17.	б 1
8.	Тихий	18.	б 1
9.	Тихий	19.	б 1
10.	Тихий	20.	б 1

Задание 2 (6 баллов).

Аналитический раунд 42 балла

№ вопроса	Вопрос	Ответ
1.	Самый большой океан:	Тихий
2.	Самый высокий водопад:	Тихий
3.	Самый крупный остров:	Гренландия
4.	Самая глубокая впадина Мирового океана:	Марианская
5.	Самый большой речной бассейн:	Азия
6.	Самое глубокое озеро:	Байкал

Задание 3 (5 баллов)

Ответ: $7/12 \cdot 50000 = 100 = 500$

50

Задание 4 (8 баллов)

	список	«лишнее»	объяснение
1.	Дождь, град, бриз, иней, снег	бриз	все остальные снегопад, но не дождь
2.	Барометр, осадкомер, муссон, гипрометр	муссон	это не прибор
3.	Роса, снег, дождь, ливень.	дождь	все ост. осадки, снег, роса
4.	Бриз, дождь, муссон, ветер.	ветер	все ост. осадки

Задание 5. (6 баллов)

№ значка	1	2	3	4	5	6	7	8	9	10	11	12
Какой объект обозначает	10	10	10	10	10	10	10	10	10	10	10	10

Задание 6 (5 баллов)

Ответ: Атлантический океан, все это моря

Задание 7 (12 баллов)

Старинное название объекта	Современное название объекта
1) Вандименова Земля	Новая Зеландия
2) Сандвичевы острова	Фиджи
3) мыс Бурь	
4) Южная Родезия	
5) Ялик	
6) Варяжское море	
7). Цетебес	
8) Борнео;	
9) Эспаньола	
10) Архипелаг Колон	
11). Цейлон	
12) остров Фернандо-По	

МАКСИМАЛЬНО ВОЗМОЖНОЕ КОЛИЧЕСТВО БАЛЛОВ за работу: 62

Всего: 30,5

Пререшли все решено

стара

Марианская Д.В. Филиппины Т.В.